

SMZ
BARAZA LA MITIHANI LA ZANZIBAR
MTIHANI WA DARASA LA NNE
HISABATI

124

MUDA: SAA 2 JUMATATU 25 NOVEMBA, 2019 ASUBUHI.

MAELEKEZO KWA WATAHINIWA

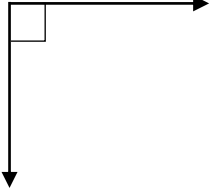

1. Mtihani una sehemu mbili (2) A na B
2. Jibu maswali **YOTE** kutoka sehemu A na sehemu B.
3. Majibu yote yaandikwe kwenye nafasi zilizowekwa.
4. Majibu yote yandikwe kwa kalamu **nyeusi** au ya **buluu**.
5. Simu za mkononi na vikokotozi **haviruhusiwi** ndani ya chumba cha mtihani.
6. Andika **Nambari yako ya mtihani** sehemu ya juu ya kila ukurasa.

KWA MATUMIZI YA MSAHIHISHAJI					
NAMBARI YA SWALI	ALAMA	SAINI YA MTAHINI	NAMBARI YA SWALI	ALAMA	SAINI YA MTAHINI
1			14		
2			15		
3			16		
4			17		
5			18		
6			19		
7			20		
8					
9					
10					
11					
12					
13					
JUMLA					

Mtihani huu una kurasa 14 zenye maandishi

SEHEMU A: (Alama 60)
Jibu maswali YOTE katika sehemu hii

NA	SWALI	SEHEMU YA KAZI NA JAWABU
1.	Andika majina ya miezi yenye siku thelathini (30).	
2.	$\begin{array}{r} 95678 \\ - 83783 \\ \hline \\ \hline \end{array}$	
3.	Rahisisha $\frac{1}{4} + \frac{1}{4}$	

<p>4.</p>	<p>Andika majina ya pembe katika michoro ifuatayo:</p> <p>i) </p> <p>ii) </p>	
<p>5.</p>	<p>Zidisha 285×25</p>	
<p>6.</p>	<p>Gawanya kwa njia ndefu $288 \div 16$.</p>	

7.	Chukua 450 kutoka 742, jawabu yake ni:	
8.	Zipange nambari zifuatazo kutoka nambari ndogo kwenda nambari kubwa 14, 3, 2, 8, 5, 10, 6, 11, 4, 7, 12, 9, 13	
9.	Rahisisha $2(x + 3y + 2x)$.	

10.	Ikiwa kilo moja ya sukari inauzwa shilingi 2000. Jee, kilo 9 zitauzwa kwa shilingi ngapi?	
11.	Niongeze ngapi kwenye $\frac{1}{3}$ ili nipate $\frac{1}{2}$.	

12. Geuza *kg* 3 *g* 190 kuwa gramu.



13. Andika jumla ya pesa zilizopo hapo chini.

14. Andika wakati unaonekana katika uso wa saa iliopo hapo chini.



15. Rahisisha $15\frac{1}{2} \div 2\frac{1}{5}$

SEHEMU B: (Alama 40)

Jibu maswali YOTE katika sehemu hii

16.

Angalia picha za vitu tafauti na bei zake kisha jibu maswali yafuatayo:



20,000/=



12,000/=

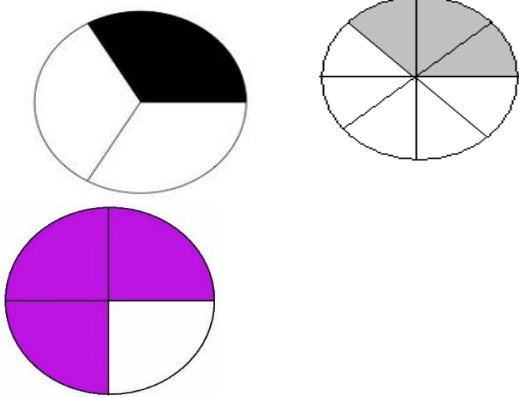


22,000/=

i) Tafuta jumla ya bei ya kiti na viatu.

ii) Tafuta jumla ya bei ya pasi na kiti.

	<p>iii) Tafuta jumla ya bei ya pasi na viatu.</p> <p>iv) Tafuta jumla ya bei ya viatu, kiti na pasi.</p>
17.	<p>a) Nyumba ya bwana Ali ilikua na urefu wa sentimita 3000. Jee, nyumba hiyo itakua na urefu wa mita ngapi?</p>

	<p>b) Andika sehemu yenye kivuli inayoonekana katika kila duara liliopo hapo chini.</p>  <p>The image shows three circles. The first circle is divided into four equal sectors, with one sector shaded black. The second circle is divided into eight equal sectors, with two sectors shaded grey. The third circle is divided into four equal sectors, with three sectors shaded purple.</p>	
<p>18.</p>	<p>a) Ikiwa daftari moja lina karatasi 48. Jee, madaftari 30 yatakua na karatasi ngapi?</p>	

	<p>b) Onesha namba 36,257 kwa kutumia mchoro wa abakasi.</p>	
--	--	--

	<p>19. Jumla ya wanafunzi 7,500 walifanya mtihani katika kituo chao. Wanafunzi 6,845 walifaulu mtihani huo. Jee, wanafunzi wangapi hawajafaulu mtihani huo?</p>	
--	---	--

20. a) Ikiwa uzito wa mcheleni kilogramu 58, sukari ni kilogramu 34 na maharage ni gramu 25,000. Jee, vyakula vyote vilikua na kilogramu ngapi?

b)

<i>saa</i>	<i>dk</i>	<i>sek</i>
11	21	32
<u>+18</u>	<u>17</u>	<u>21</u>

NAMBARI YA MTAHINIWA _____

KWA MATUMIZI YA RAFU